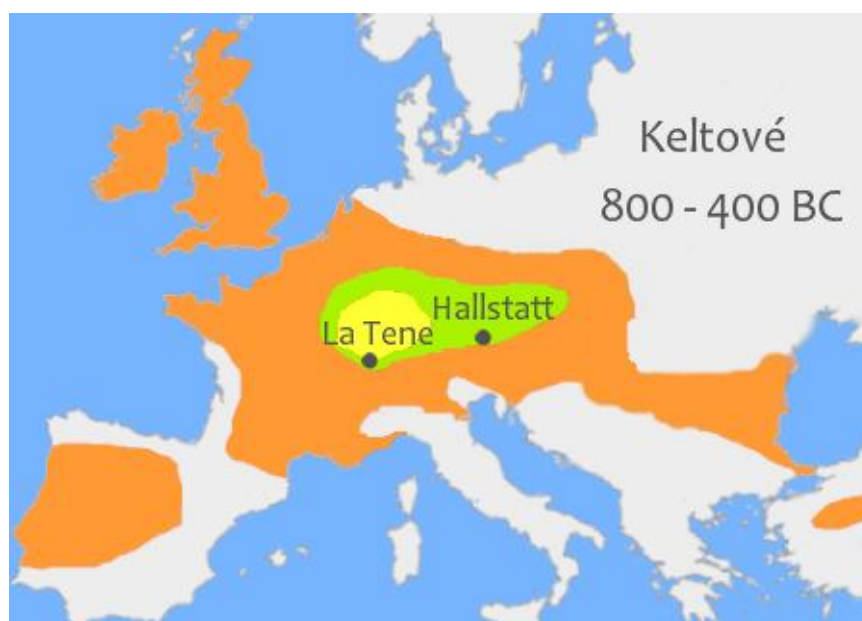


## Keltové – práce s textem

### 1. Rozhodni, zda označíš výrok slovem ANO či NE.

1. Chovali drůbež – husy.
2. Jejich koně nosili již podkovy.
3. Železnou rudu tavili v železných pecích.
4. Poblíž Duchova v severních Čechách bylo nalezeno asi 200 keltských šperků – náramků.
5. Rýžovali zlato ve východočeských řekách.
6. Ze švartny dělali lesklé náramky.
7. Jejich mince byly ze stříbra.
8. Vylévaly se do forem z hliněných destiček.
9. V Podmoklech byl nalezen poklad – mince o hmotnosti 40 kg.
10. Obec Litoměřice byla prostředníkem obchodu po Labi až do německého Saska.
11. Nejslavnějším druhem keltských sídel byla oppida.
12. Základem opevnění byla cihlová hradba s dřevěnými trámy.
13. Cesty v oppidech nebyly nijak dlážděny a zpevněny kameny či oblázky.
14. Keltové neznali studny, vodou se nezasobili.
15. Na Ohři leží nejznámější české oppidum Stradonice.
16. Pád oppid byl zřejmě způsoben rozpadem dálkového obchodu.
17. V Čechách žili Bóhové.
18. Posvátné zvíře byl kanec, kuň, býk a medvěd.
19. Kouzelníci jsou druhové.
20. Po Keltech ovládly Čechy i Moravu kmeny Germánů.

### 2. Popiš mapku, vybarvi – oblast laténské kultury, halštatské, oblast, kde žili Keltové



[http://upload.wikimedia.org/wikipedia/commons/5/51/Keltov%C3%A9\\_800-400BC.png](http://upload.wikimedia.org/wikipedia/commons/5/51/Keltov%C3%A9_800-400BC.png)


### 3. Doplň vhodný titulek k obrázkům



1.



2.



3.



4.

1. [http://upload.wikimedia.org/wikipedia/commons/thumb/c/c8/Oppidum\\_Burgstall\\_3.JPG/90px-Oppidum\\_Burgstall\\_3.JPG](http://upload.wikimedia.org/wikipedia/commons/thumb/c/c8/Oppidum_Burgstall_3.JPG/90px-Oppidum_Burgstall_3.JPG)

2. <http://upload.wikimedia.org/wikipedia/commons/thumb/c/c4/Oppidum.jpg/120px-Oppidum.jpg>

3. <http://upload.wikimedia.org/wikipedia/commons/thumb/6/63/Maeve%26druid.jpg/82px-Maeve%26druid.jpg>

4. [http://upload.wikimedia.org/wikipedia/commons/thumb/c/cb/Habr\\_obecn%C3%BD\\_-\\_semen%C3%A1%C4%8Dek.JPG/120px-Habr\\_obecn%C3%BD\\_-\\_semen%C3%A1%C4%8Dek.JPG](http://upload.wikimedia.org/wikipedia/commons/thumb/c/cb/Habr_obecn%C3%BD_-_semen%C3%A1%C4%8Dek.JPG/120px-Habr_obecn%C3%BD_-_semen%C3%A1%C4%8Dek.JPG)

## Řešení:

### Keltové – práce s textem

#### *1. Rozhodni, zda označíš výrok slovem ANO či NE.*

21. Chovali drůbež – husy.
22. Jejich koně nosili již podkovy.
23. Železnou rudu tavili v železných pecích.
24. Poblíž Duchova v severních Čechách bylo nalezeno asi 200 keltských šperků - náramků
25. Rýžovali zlato ve východočeských řekách.
26. Ze švartny dělali lesklé náramky.
27. Jejich mince byly ze stříbra.
28. Vylévaly se do forem z hliněných destiček.
29. V Podmoklech byl nalezen poklad – mince o hmotnosti 40 kg.
30. Obec Litoměřice byla prostředníkem obchodu po Labi až do německého Saska.
31. Nejslavnějším druhem keltských sídel byla oppida.
32. Základem opevnění byla cihlová hradba s dřevěnými trámy.
33. Cesty v oppidech nebyly nijak dlážděny a zpevněny kameny či oblázky.
34. Keltové neznali studny, vodou se nezásobili.
35. Na Ohři leží nejznámější české oppidum Stradonice.
36. Pád oppid byl zřejmě způsoben rozpadem dálkového obchodu.
37. V Čechách žili Bóhové.
38. Posvátné zvíře byl kanec, kuň, býk a medvěd.
39. Kouzelníci jsou druhové.
40. Po Keltech ovládly Čechy i Moravu kmeny Germánů.

#### *2. Popiš mapku, vybarvi – oblast laténské kultury, halštatské, oblast, kde žili Keltové*

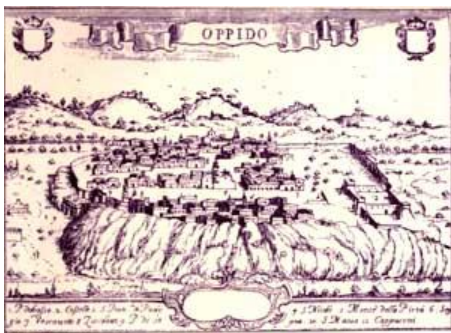


[http://upload.wikimedia.org/wikipedia/commons/5/51/Keltov%C3%A9\\_800-400BC.png](http://upload.wikimedia.org/wikipedia/commons/5/51/Keltov%C3%A9_800-400BC.png)


### 3. Doplně vhodný titulek k obrázkům



1.



2.



3.



4.

1. [http://upload.wikimedia.org/wikipedia/commons/thumb/c/c8/Oppidum\\_Burgstall\\_3.JPG/90px-Oppidum\\_Burgstall\\_3.JPG](http://upload.wikimedia.org/wikipedia/commons/thumb/c/c8/Oppidum_Burgstall_3.JPG/90px-Oppidum_Burgstall_3.JPG)

2. <http://upload.wikimedia.org/wikipedia/commons/thumb/c/c4/Oppidum.jpg/120px-Oppidum.jpg>

3. <http://upload.wikimedia.org/wikipedia/commons/thumb/6/63/Maeve%26druid.jpg/82px-Maeve%26druid.jpg>

4. [http://upload.wikimedia.org/wikipedia/commons/thumb/c/cb/Habr\\_obecn%C3%BD\\_-\\_semen%C3%A1%C4%8Dek.JPG/120px-Habr\\_obecn%C3%BD\\_-\\_semen%C3%A1%C4%8Dek.JPG](http://upload.wikimedia.org/wikipedia/commons/thumb/c/cb/Habr_obecn%C3%BD_-_semen%C3%A1%C4%8Dek.JPG/120px-Habr_obecn%C3%BD_-_semen%C3%A1%C4%8Dek.JPG)

## Řešení:

### Keltové – práce s textem

#### *1. Rozhodni, zda označíš výrok slovem ANO či NE.*

1. Chovali drůbež – husy. **ANO**
2. Jejich koně nosili již podkovy. **ANO**
3. Železnou rudu tavili v železných pecích. **NE**
4. Poblíž Duchova v severních Čechách bylo nalezeno asi 200 keltských šperků – náramků. **NE**
5. Rýžovali zlato ve východočeských řekách. **NE**
6. Ze švartny dělali lesklé náramky. **ANO**
7. Jejich mince byly ze stříbra. **NE**
8. Vylévaly se do forem z hliněných destiček. **ANO**
9. V Podmoklech byl nalezen poklad – mince o hmotnosti 40 kg. **ANO**
10. Obec Litoměřice byla prostředníkem obchodu po Labi až do německého Saska. **NE**
11. Nejslavnějším druhem keltských sídel byla oppida. **ANO**
12. Základem opevnění byla cihlová hradba s dřevěnými trámi. **NE**
13. Cesty v oppidech nebyly nijak dlážděny a zpevněny kameny či oblázky. **NE**
14. Keltové neznali studny, vodou se nezásobili. **NE**
15. Na Ohři leží nejznámější české oppidum Stradonice. **NE**
16. Pád oppid byl zřejmě způsoben rozpadem dálkového obchodu. **ANO**
17. V Čechách žili Bóhové. **NE**
18. Posvátné zvíře byl kanec, kůň, býk a medvěd. **ANO**
19. Kouzelníci jsou druhové. **ANO**
20. Po Keltech ovládly Čechy i Moravu kmeny Germánů. **ANO**

## OBRÁZKY:

Č. 1 – detailní pohled na stěnu keltského oppida – kameny a příčně kladené dřevěné trámy

Č. 2 – keltské oppidum a jeho obranný val

Č. 3 – kouzelníci, druidové schopní zastavit svým příchodem na bojiště bitvu, ctili přírodu

Č. 4 – posvátný strom habr